

∞ BACCALAURÉAT GÉNÉRAL ∞

EXERCICES D'ENSEIGNEMENT DE SPÉCIALITÉ

Session 2024 Exercices 0

Le positionnement des épreuves d'enseignement de spécialité au mois de juin modifie la liste des contenus sur lesquels les élèves sont susceptibles d'être interrogés.

À compter de la session 2024, les sujets s'appuieront sur l'ensemble du programme de spécialité du cycle terminal.

Ce document a pour objectif de guider les enseignants dans la formation de leurs élèves de première et terminale de voie générale en spécialité Mathématiques. Il présente huit exemples d'exercices dans lesquels figurent des contenus et des capacités susceptibles d'être évalués lors de l'épreuve du baccalauréat. Cette liste vient compléter l'ensemble des exercices proposés lors des sessions précédentes du baccalauréat.

Exercice 1

L'exercice est constitué de deux parties indépendantes.

Partie I

On considère l'équation différentielle :

$$(E) : y' + y = e^{-x}$$

1. Soit u la fonction définie sur \mathbb{R} par $u(x) = xe^{-x}$.
Vérifier que la fonction u est une solution de l'équation différentielle (E) .
2. On considère l'équation différentielle $(E') : y' + y = 0$.
Résoudre l'équation différentielle (E') sur \mathbb{R} .
3. En déduire toutes les solutions de l'équation différentielle (E) sur \mathbb{R} .
4. Déterminer l'unique solution g de l'équation différentielle (E) telle que $g(0) = 2$.

Partie II

Dans cette partie, k est un nombre réel fixé que l'on cherche à déterminer.

On considère la fonction f_k définie sur \mathbb{R} par :

$$f_k(x) = (x + k)e^{-x}.$$

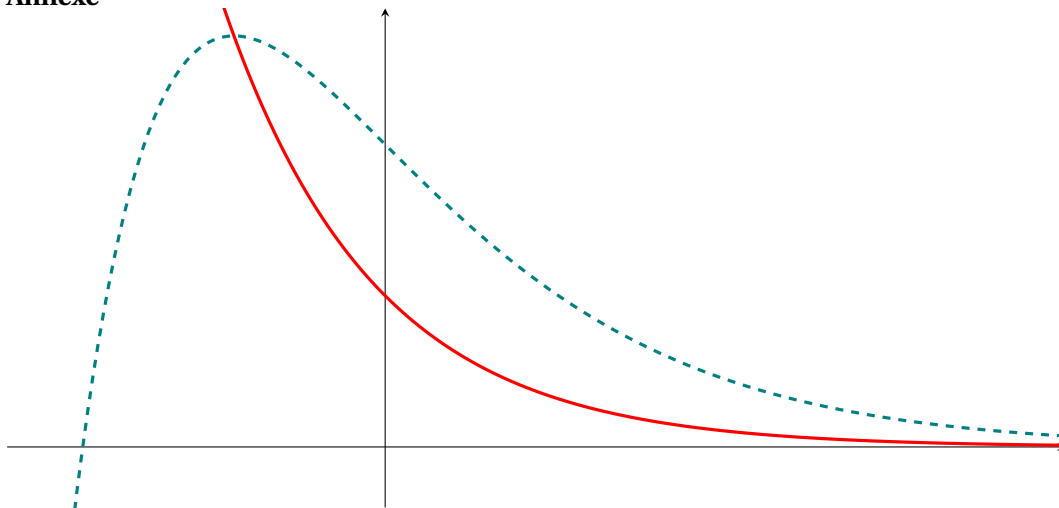
Soit h la fonction définie sur \mathbb{R} par

$$h(x) = e^{-x}.$$

On note C_k la courbe représentative de la fonction f_k dans un repère orthogonal et C la courbe représentative de la fonction h .

On a représenté sur le graphique en annexe les courbes C_k et C sans indiquer les unités sur les axes ni le nom des courbes.

1. Sur le graphique en annexe à rendre avec la copie, l'une des courbes est en traits pointillés, l'autre est en trait plein. Laquelle est la courbe C ?
2. En expliquant la démarche utilisée, déterminer la valeur du nombre réel k et placer sur l'annexe à rendre avec la copie l'unité sur chacun des axes du graphique.

Annexe**Exercice 2**

L'exercice est constitué de deux parties indépendantes.

Partie I

Pour tout entier n supérieur ou égal à 1, on désigne par f_n la fonction définie sur $[0; 1]$ par :

$$f_n(x) = x^n e^x$$

On note C_n la courbe représentative de la fonction f_n dans un repère (O, \vec{i}, \vec{j}) du plan. On désigne par (I_n) la suite définie pour tout entier n supérieur ou égal à 1 par :

$$I_n = \int_0^1 x^n e^x dx.$$

1. a. On désigne par F_1 la fonction définie sur $[0; 1]$ par :

$$F_1(x) = (x-1)e^x.$$

Vérifier que F_1 est une primitive de la fonction f_1 .

- b. Calculer I_1 .

2. À l'aide d'une intégration par parties, établir la relation pour tout n supérieur ou égal à 1,

$$I_{n+1} = e - (n+1)I_n.$$

3. Calculer I_2 .

4. On considère la fonction mystere écrite dans le langage Python :

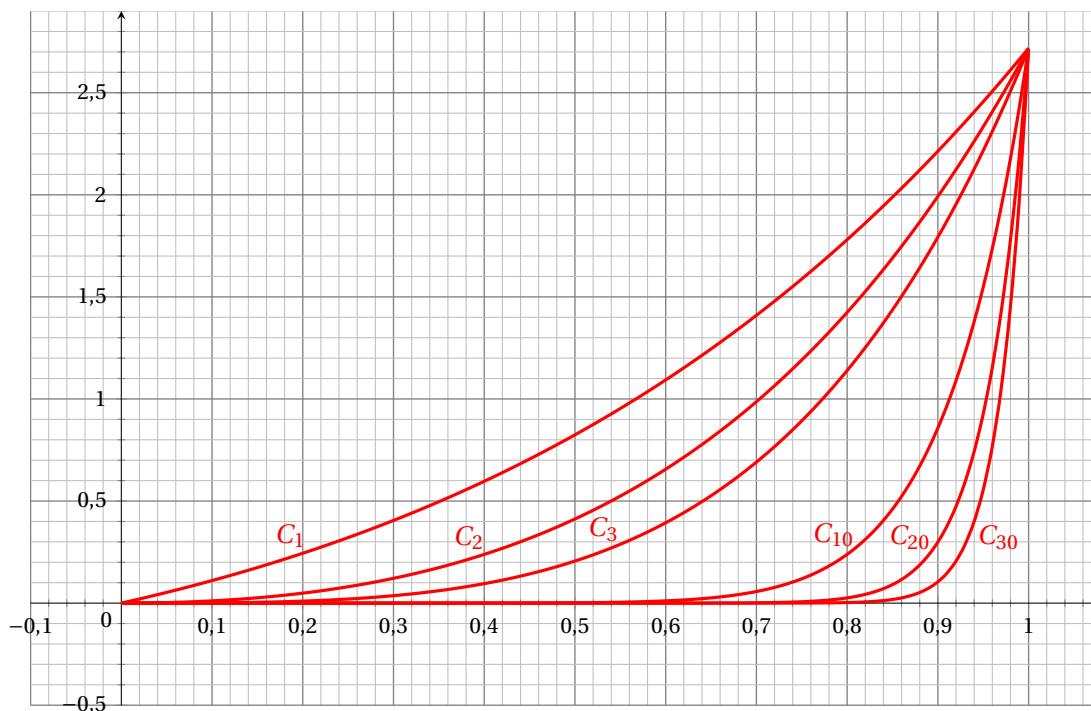
```
from math import e # la constante d'Euler e

def mystere(n):
    a = 1
    L = [a]
    for i in range(1,n):
        a = e - (i + 1)*a
        L.append(a)
    return L
```

À l'aide des questions précédentes, expliquer ce que renvoie l'appel `mystere(5)`.

Partie II

1. Sur le graphique ci-dessous, on a représenté les courbes $C_1, C_2, C_3, C_{10}, C_{20}$ et C_{30} .



- Donner une interprétation graphique de I_n .
- Quelle conjecture peut-on émettre sur la limite de la suite (I_n) ?

2. Montrer que pour tout n supérieur ou égal à 1,

$$0 \leq I_n \leq e \int_0^1 x^n dx.$$

3. En déduire $\lim_{n \rightarrow +\infty} I_n$.

Exercice 3

Dans un examen, une épreuve notée sur dix points est constituée de deux exercices : le premier est noté sur deux points, le deuxième sur huit points.

Partie I

Le premier exercice est constitué de deux questions Q1 et Q2.

Chaque question est notée sur un point. Une réponse correcte rapporte un point ; une réponse incorrecte, incomplète ou une absence de réponse rapporte zéro point.

On considère que :

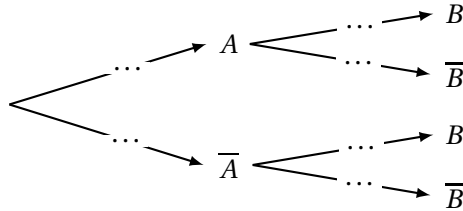
- Un candidat pris au hasard a une probabilité 0,8 de répondre correctement à la question Q1.
- Si le candidat répond correctement à Q1, il a une probabilité 0,6 de répondre correctement à Q2 ; s'il ne répond pas correctement à Q1, il a une probabilité 0,1 de répondre correctement à Q2.

On prend un candidat au hasard et on note :

- A l'évènement : « le candidat répond correctement à la question Q1 »;
- B l'évènement : « le candidat répond correctement à la question Q2 ».

On note \bar{A} et \bar{B} les évènements contraires de A et de B .

1. Recopier et compléter les pointillés de l'arbre pondéré ci-dessous.



2. Calculer la probabilité que le candidat réponde correctement aux deux questions Q1 et Q2.
3. Calculer la probabilité que le candidat réponde correctement à la question Q2.

On note :

- X_1 la variable aléatoire qui, à un candidat, associe sa note à la question Q1 ;
 - X_2 la variable aléatoire qui, à un candidat, associe sa note à la question Q2 ;
 - X la variable aléatoire qui, à un candidat, associe sa note à l'exercice, c'est-à-dire $X = X_1 + X_2$.
4. Déterminer l'espérance de X_1 et de X_2 . En déduire l'espérance de X . Donner une interprétation de l'espérance de X dans le contexte de l'exercice.
 5. On souhaite déterminer la variance de X .
 - a. Déterminer $P(X = 0)$ et $P(X = 2)$. En déduire $P(X = 1)$.
 - b. Montrer que la variance de X vaut 0,57.
 - c. A-t-on $V(X) = V(X_1) + V(X_2)$? Est-ce surprenant?

Partie II

Le deuxième exercice est constitué de huit questions indépendantes.

Chaque question est notée sur un point. Une réponse correcte rapporte un point ; une réponse incorrecte et une absence de réponse rapporte zéro point.

Les huit questions sont de même difficulté : pour chacune des questions, un candidat a une probabilité $\frac{3}{4}$ de répondre correctement, indépendamment des autres questions.

On note Y la variable aléatoire qui, à un candidat, associe sa note au deuxième exercice, c'est-à-dire le nombre de bonnes réponses.

1. Justifier que Y suit une loi binomiale dont on précisera les paramètres.
2. Donner la valeur exacte de $P(Y = 8)$.
3. Donner l'espérance et la variance de Y .

Partie III

On suppose que les deux variables aléatoires X et Y sont indépendantes. On note la variable aléatoire qui, à un candidat, associe sa note totale à l'examen : $Z = X + Y$.

1. Calculer l'espérance et la variance de Z .

2. Soit n un nombre entier strictement positif.

Pour i entier variant de 1 à n , on note Z_i la variable aléatoire qui, à un échantillon de n élèves, associe la note de l'élève numéro i à l'examen.

On admet que les variables aléatoires Z_1, Z_2, \dots, Z_n sont identiques à Z et indépendantes.

On note M_n la variable aléatoire qui, à un échantillon de n élèves, associe la moyenne de leurs n notes, c'est-à-dire :

$$M_n = \frac{Z_1 + Z_2 + \dots + Z_n}{n}$$

a. Quelle est l'espérance de M_n ?

b. Quelles sont les valeurs de n telles que l'écart type de M_n soit inférieur ou égal à 0,5 ?

c. Pour les valeurs trouvées en **b.**, montrer que la probabilité que $6,3 \leq M_n \leq 8,3$ est supérieure ou égale à 0,75.

Exercice 4

Cet exercice est un questionnaire à choix multiples.

Pour chaque question, une seule des quatre propositions est exacte. Indiquer sur la copie le numéro de la question et la lettre de la proposition choisie.

Aucune justification n'est demandée.

Pour chaque question, une réponse exacte rapporte un point. Une réponse fautive, une réponse multiple ou l'absence de réponse ne rapporte ni n'enlève de point.

Les questions sont indépendantes.

On considère le prisme droit ABFEDCGH tel que $AB = AD$.

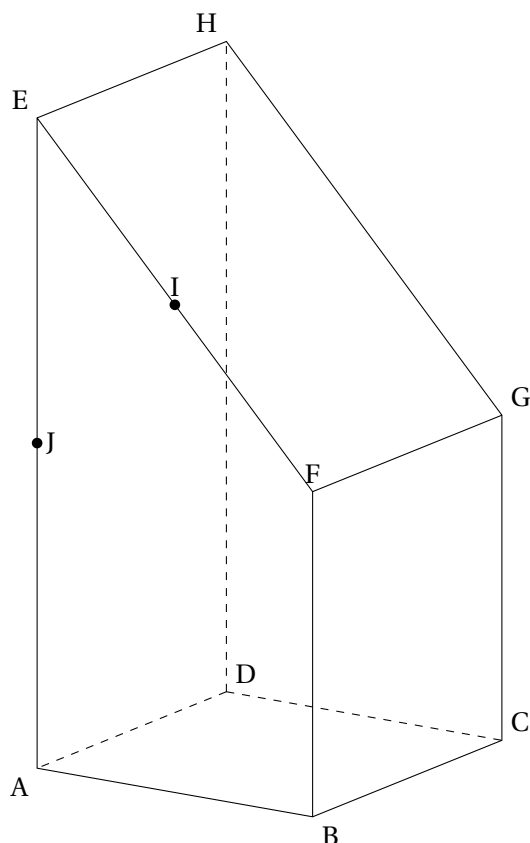
Sa base ABFE est un trapèze rectangle en A, vérifiant $\overrightarrow{BF} = \frac{1}{2}\overrightarrow{AE}$.

On note I le milieu du segment [EF].

On note J le milieu du segment [AE].

On associe à ce prisme le repère orthonormé $(A; \vec{i}, \vec{j}, \vec{k})$ tel que :

$$\vec{i} = \overrightarrow{AB}; \quad \vec{j} = \overrightarrow{AD}; \quad \vec{k} = \overrightarrow{AJ}$$



- On donne les coordonnées de quatre vecteurs dans la base $(\vec{i}, \vec{j}, \vec{k})$. Lequel est un vecteur normal au plan (ABG)?
 - $\vec{n} \begin{pmatrix} 1 \\ 1 \\ 1 \end{pmatrix}$
 - $\vec{n} \begin{pmatrix} -1 \\ 1 \\ 1 \end{pmatrix}$
 - $\vec{n} \begin{pmatrix} 0 \\ -1 \\ 1 \end{pmatrix}$
 - $\vec{n} \begin{pmatrix} 0 \\ 0 \\ 1 \end{pmatrix}$
- Parmi les droites suivantes, laquelle est parallèle à la droite (IJ)?
 - (DG)
 - (BD)
 - (AG)
 - (FG)
- Quels vecteurs forment une base de l'espace?
 - $(\overrightarrow{AB}; \overrightarrow{CG})$
 - $(\overrightarrow{AB}; \overrightarrow{AC}; \overrightarrow{AD})$
 - $(\overrightarrow{DA}; \overrightarrow{DC}; \overrightarrow{DG})$
 - $(\overrightarrow{CA}; \overrightarrow{CG}; \overrightarrow{CE})$
- Une décomposition du vecteur \overrightarrow{AG} comme somme de plusieurs vecteurs **deux à deux orthogonaux** est :
 - $\overrightarrow{AG} = \overrightarrow{AB} + \overrightarrow{HG}$
 - $\overrightarrow{AG} = \overrightarrow{AB} + \overrightarrow{AD} + \overrightarrow{AJ}$
 - $\overrightarrow{AG} = \overrightarrow{AB} + \overrightarrow{BJ} + \overrightarrow{JG}$
 - $\overrightarrow{AG} = \overrightarrow{AD} + \overrightarrow{DH} + \overrightarrow{HG}$
- Le volume du prisme droit ABFEDCGH, est égal à :
 - $\frac{5}{8}$
 - $\frac{8}{5}$
 - $\frac{3}{2}$
 - 2

Exercice 6

Pour chacune des affirmations suivantes, indiquer si elle est vraie ou fausse.

Chaque réponse doit être justifiée.

Une réponse non justifiée ne rapporte aucun point.

On considère la suite (u_n) définie par :

$$\begin{cases} u_0 &= 1 \\ u_{n+1} &= \frac{u_n}{1+2u_n} \text{ pour tout entier naturel } n \end{cases}$$

- **Affirmation 1** : « $u_4 = \frac{1}{9}$. »
- **Affirmation 2** : « Pour tout entier naturel n , $u_n = \frac{1}{2n+1}$. »
- **Affirmation 3** : « La suite numérique (u_n) est minorée par 10^{-10} . »

Exercice 7

On considère les fonctions f_k définies sur \mathbb{R} par

$$f_k(x) = x + ke^{-x},$$

où k est un réel strictement positif.

1. On s'intéresse dans cette question au cas $k = 0,5$, donc à la fonction $f_{0,5}$ définie sur \mathbb{R} par :

$$f_{0,5}(x) = x + 0,5e^{-x}.$$

- a. Montrer que la dérivée de $f_{0,5}$, notée $f'_{0,5}$ vérifie $f'_{0,5}(x) = 1 - 0,5e^{-x}$.
- b. Montrer que la fonction $f_{0,5}$ admet un minimum en $\ln(0,5)$.

Soit k un réel strictement positif. On donne le tableau de variations de la fonction f_k .

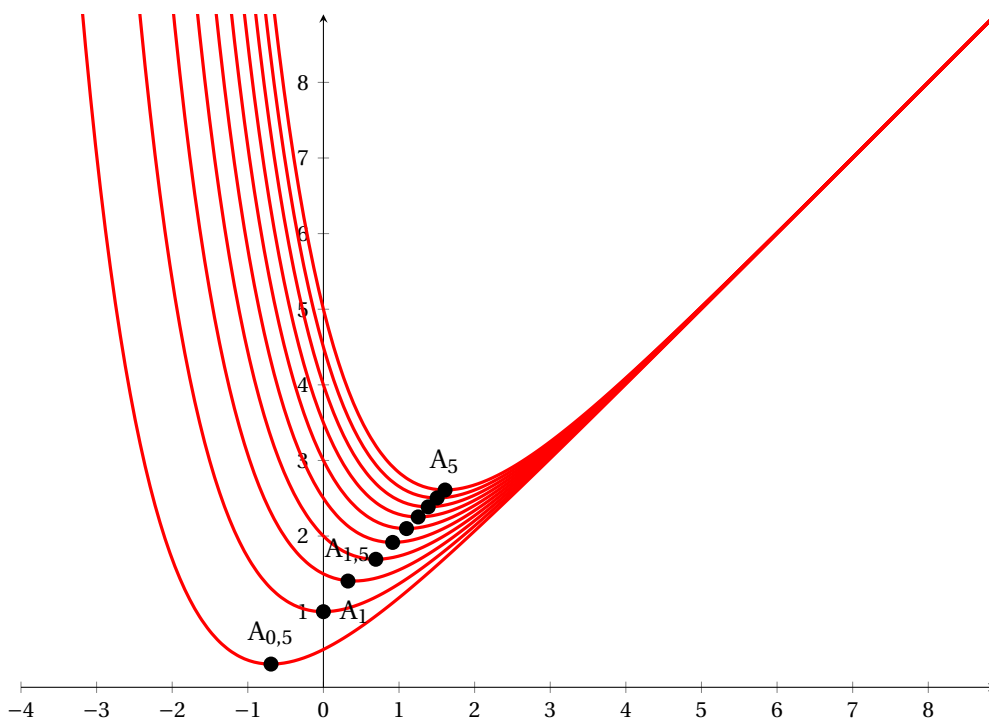
Valeurs de x	$-\infty$	$\ln(k)$	$+\infty$
Variations de f_k	$+\infty$	$f_k(\ln k)$	$+\infty$

2. Montrer que pour tout réel positif k , $f_k(\ln k) = \ln k + 1$.

On note \mathcal{C}_k la courbe représentative de la fonction f_k dans un plan muni d'un repère orthonormé.

On note A_k le point de la courbe \mathcal{C}_k d'abscisse $\ln k$.

On a représenté ci-dessous quelques courbes \mathcal{C}_k pour différentes valeurs de k .



3. Indiquer si l'affirmation suivante est vraie ou fausse. Justifier la réponse. Une réponse non justifiée ne rapporte aucun point.

- **Affirmation :** « Pour tout réel k strictement positif, les points $A_{0,5}$, A_1 et A_k sont alignés. »

Exercice 8

Pour chacune des affirmations suivantes, indiquer si elle est vraie ou fausse.

Chaque réponse doit être justifiée.

Une réponse non justifiée ne rapporte aucun point.

On considère la suite (u_n) définie par

$$\begin{cases} u_0 &= 0 \text{ et} \\ u_{n+1} &= 3u_n + 1 \text{ pour tout entier naturel } n. \end{cases}$$

1. On considère la fonction calcul écrite dans le langage Python qui renvoie la valeur de u_n .

```
def calcul(n):
    u = 0
    for i in range(n):
        u = 3 * u + 1
    return u
```

On considère par ailleurs la fonction liste écrite dans le langage Python :

```
def liste(n):
    l = [ ]
    for i in range(n):
        l.append( calcul(i) )
    return l
```

Affirmation 1 : « l'appel `liste(6)` renvoie la liste $[0, 1, 4, 13, 42, 121]$. »

2. Affirmation 2 : « pour tout entier naturel n , $u_n = \frac{1}{2} \times 3^n - \frac{1}{2}$. »

3. Affirmation 3 : « pour tout entier naturel n , $u_{n+1} - u_n$ est une puissance de 3. »